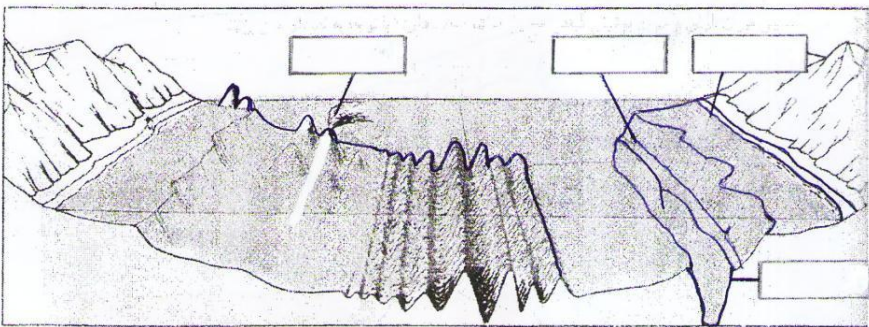



سوال‌های امتحان درس: مطالعات اجتماعی		پایه: نهم	رشته:	تاریخ آزمون: ۱۴۰۱/۱۰/۰۵
امتحانات نوبت اول		سال تحصیلی: ۱۴۰۱-۱۴۰۲	تعداد صفحات سوال: ۳	ساعت شروع:
نام و نام خانوادگی:		اداره استعدادهای درخشان استان اردبیل مدیریت آموزش و پرورش ناحیه یک اردبیل دبیرستان دوره اول فرزنانگان ۱		
مدت امتحان: ۶۰ دقیقه				
بارم	(سوال‌ها)			فصل
۳/۵	<p>۱- در اول تیر ماه، خورشید در نیمکره شمالی به مدار رأس السرطان عمودی می‌تابد. (۰/۵ نمره) ص <input type="checkbox"/> غ <input type="checkbox"/></p> <p>۲- شهری بر روی مدار استوا قرار دارد. اگر طول جغرافیایی آن ۷۵ درجه شرقی باشد، عرض جغرافیایی آن شهر چقدر است؟ (۰/۵ نمره)</p> <p>الف) صفر درجه <input type="checkbox"/></p> <p>ب) ۹۰ درجه <input type="checkbox"/></p> <p>ج) ۱۸۰ درجه <input type="checkbox"/></p> <p>د) ۳۶۰ درجه <input type="checkbox"/></p> <p>۳- به چهار سیاره نزدیک به خورشید که سطوح سنگی و جامد دارند می‌گویند. (۰/۵ نمره)</p> <p>۴- نصف النهار را تعریف کنید. (۱ نمره)</p> <p>۵- برای هر کدام از زمان‌های زیر دو کاربرد بنویسید. (۱ نمره)</p> <p>الف) ساعت واقعی:</p> <p>ب) ساعت رسمی:</p>			فصل اول
۲/۵	<p>۶- بخش خارجی کره زمین که حالت جامد دارد و از سنگ و خاک تشکیل شده است چه نام دارد؟ (۰/۵ نمره)</p> <p>الف) هیدروسفر <input type="checkbox"/></p> <p>ب) اتمسفر <input type="checkbox"/></p> <p>ج) بیوسفر <input type="checkbox"/></p> <p>د) لیتوسفر <input type="checkbox"/></p> <p>۷- چرا انسان چهره ناهمواری‌ها را تغییر داده است؟ (۱ نمره)</p> <p>۸- از یکسان نتابیدن خورشید به سطح زمین، چند منطقه آب و هوایی در روی زمین پدید می‌آید؟ دو مورد بنویسید. (۱ نمره)</p>			فصل دوم
۶	ادامه سوالات در صفحه دوم			جمع بarm صفحه ۱
نمره تصحیح اول		با عدد:	نمره	با عدد:
		با حروف:	تجدید	با حروف:
		نام - نام خانوادگی و امضای مصحح:	نظر	نام - نام خانوادگی و امضای مصحح:

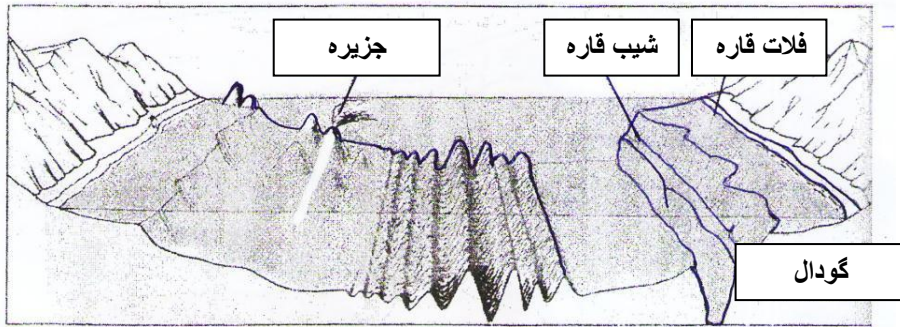
بارم	ادامه سوالات	فصل				
۱	<p>۹- روی مدل زیر، موارد جزیره آتشفشانی، شیب قاره، گودال اقیانوسی و فلات قاره را در جای خالی بنویسید.</p> 	ادامه فصل دوم				
۳/۵	<p>۱۰- کدام عامل مهم ترین و بیشترین تأثیر را در تنوع زیست بومها دارد؟ (۰/۵ نمره)</p> <p>الف) جنس خاک □ ب) میزان ارتفاع از زمین □ ج) آب و هوا □ د) شکل ناهمواریها □</p> <p>۱۱- اگر حفاظت از زیستگاههای جنگل های استوایی را به شما واگذار کنند چه راهکارهایی را برای استفاده صحیح و خردمندانه از آنها ارائه می دهید؟ دو مورد. (۱ نمره)</p> <p>۱۲- از مهم ترین عواملی که باعث تخریب زیستگاهها در جهان می شوند دو مورد بنویسید. (۱ نمره)</p> <p>۱۳- در هر یک از موارد زیر نام زیست بوم مربوطه را بنویسید. (۱ نمره)</p> <p>الف) درختان بانوباب از گونه های گیاهی مشهور این زیست بوم هستند.</p> <p>ب) این زیست بوم غنی ترین تنوع گیاهی و جانوری را دارد.</p> <p>ج) فقط گیاهانی چون خزه و گل سنگ در این زیست بوم رشد می کنند.</p> <p>د) از گسترده ترین زیست بوم های جهان می باشد.</p>	فصل سوم				
۳/۵	<p>۱۴- اگر درصد رشد جمعیت به کمتر از صفر برسد، به آن می گویند. (۰/۵ نمره)</p> <p>۱۵- به نظر شما در چه کشورهایی امید به زندگی یا متوسط طول عمر کمتر است؟ (۱ نمره)</p> <p>۱۶- مهاجرت اجباری و اختیاری را با هم مقایسه کنید. (۱ نمره)</p> <p>۱۷- جدول زیر را در رابطه با علل و عوامل نابرابری در جهان کامل کنید. (۱ نمره)</p> <table border="1" data-bbox="181 1816 1401 2007"> <tr> <td data-bbox="181 1816 1104 1912">۱- ۲-</td> <td data-bbox="1104 1816 1401 1912">داخلی</td> </tr> <tr> <td data-bbox="181 1912 1104 2007">۱- ۲-</td> <td data-bbox="1104 1912 1401 2007">خارجی</td> </tr> </table>	۱- ۲-	داخلی	۱- ۲-	خارجی	فصل چهارم
۱- ۲-	داخلی					
۱- ۲-	خارجی					
۸	ادامه سوالات در صفحه سوم جمع بarm صفحه ۲					

بارم	ادامه سؤالات		فصل
۳	<p>۱۸- یکی از منابع عمده حکومت صفوی مالیات بود که از بازرگانان می گرفتند. (۵/۰ نمره) <input type="checkbox"/> ص <input type="checkbox"/> غ</p> <p>۱۹- مهم ترین دشمنان خارجی صفویان در شرق و غرب کدام دولت ها بودند؟ (۵/۰ نمره)</p> <p>الف) عثمانی ها و پرتغالی ها <input type="checkbox"/> (ب) ازبک ها و عثمانی ها <input type="checkbox"/></p> <p>ج) افغان ها و ازبک ها <input type="checkbox"/> (د) پرتغالی ها و انگلیسی ها <input type="checkbox"/></p> <p>۲۰- اولین بار کدام پادشاه صفوی پایتخت صفویان را تغییر داد؟ چرا؟ (۱ نمره)</p> <p>۲۱- از عوامل گسترش تجارت داخلی و خارجی در عصر صفوی دو مورد بیان کنید. (۱ نمره)</p>		فصل پنجم
۳	<p>۲۲- کریم خان به جای عنوان شاه لقب را برای خود برگزید. (۵/۰ نمره)</p> <p>۲۳- تعهدات ایران و انگلستان را در عهدنامه های دوره فتحعلی شاه قاجار بنویسید. (۱ نمره)</p> <p>الف) تعهد ایران:</p> <p>ب) تعهد انگلستان:</p> <p>۲۴- میان کدام گزینه سمت راست با گزینه سمت چپ رابطه وجود دارد؟ (یک مورد در سمت چپ اضافی است). (۵/۱ نمره)</p> <p>۱- () امیرکبیر</p> <p>الف) تحریم استفاده از توتون و تنباکو</p> <p>۲- () آیت الله میرزا حسن شیرازی</p> <p>ب) فرستادن افرادی به انگلستان جهت علم آموزی</p> <p>۳- () عباس میرزا</p> <p>ج) تأسیس مدرسه دار الفنون</p> <p>د) ایجاد مدارس جدید به سبک اروپایی</p>		فصل ششم
۶	جمع بارم صفحه ۳	«موفقیت حاصل تلاش شماسست؛ تلاشتان روزافزون باد.»	
۲۰	جمع کل نمره	طراح سؤال: سیدسیاح	

سوال‌های امتحان درس: مطالعات اجتماعی	پایه: نهم	طراح سوال: سیدسیاح	تاریخ آزمون: ۱۴۰۱/۱۰/۰۵
	سال تحصیلی: ۱۴۰۱-۱۴۰۲	تعداد صفحات سوال: ۳	ساعت شروع: ۱۱ صبح
	اداره استعداد‌های درخشان استان اردبیل مدیریت آموزش و پرورش ناحیه یک اردبیل دبیرستان دوره اول فرزانتگان ۱		
مدت امتحان: ۶۰ دقیقه			
بارم	(سوال‌ها)		
۳/۵	<p>۱- در اول تیر ماه، خورشید در نیمکره شمالی به مدار رأس السرطان عمودی می‌تابد. (۰/۵ نمره) ص <input checked="" type="checkbox"/> غ <input type="checkbox"/></p> <p>۲- شهری بر روی مدار استوا قرار دارد. اگر طول جغرافیایی آن ۷۵ درجه شرقی باشد، عرض جغرافیایی آن شهر چقدر است؟ (۰/۵ نمره)</p> <p>الف) صفر درجه <input checked="" type="checkbox"/> ب) ۹۰ درجه <input type="checkbox"/></p> <p>ج) ۱۸۰ درجه <input type="checkbox"/> د) ۳۶۰ درجه <input type="checkbox"/></p> <p>۳- به چهار سیاره نزدیک به خورشید که سطوح سنگی و جامد دارند سیاره‌های درونی می‌گویند. (۰/۵ نمره)</p> <p>۴- نصف النهار را تعریف کنید. (۱ نمره)</p> <p>نیم دایره‌های فرضی اند که از قطب شمال تا قطب جنوب کشیده شده‌اند و طول مساوی دارند.</p> <p>۵- برای هر کدام از زمان‌های زیر دو کاربرد بنویسید. (۱ نمره)</p> <p>الف) ساعت واقعی: تعیین زمان طلوع و غروب خورشید-انجام فرایض و واجبات دینی</p> <p>ب) ساعت رسمی: تعیین قرار ملاقات‌ها-زمان باز و بسته شدن اداره‌ها و مغازه‌ها-تعیین برنامه حرکت قطارها</p>		
۲/۵	<p>۶- بخش خارجی کره زمین که حالت جامد دارد و از سنگ و خاک تشکیل شده است چه نام دارد؟ (۰/۵ نمره)</p> <p>الف) هیدروسفر <input type="checkbox"/> ب) اتمسفر <input type="checkbox"/> ج) بیوسفر <input type="checkbox"/> د) لیتوسفر <input checked="" type="checkbox"/></p> <p>۷- چرا انسان چهره ناهمواری‌ها را تغییر داده است؟ (۱ نمره)</p> <p>بهره برداری از محیط طبیعی و رفع نیازهای فور</p> <p>۸- از یکسان نتابیدن خورشید به سطح زمین، چند منطقه آب و هوایی در روی زمین پدید می‌آید؟ دو مورد بنویسید. (۱ نمره)</p> <p>۱- منطقه گرم در دو طرف استوا تا مدارهای رأس السرطان و رأس البری</p> <p>۲- منطقه معتدل شمالی و جنوبی</p> <p>۳- منطقه سرد در مجاورت قطب‌ها</p>		
۶	ادامه سوال‌ها در صفحه دوم جمع باریم صفحه ۱		

بارم	ادامه سوال‌ها	فصل
------	---------------	-----

۹- روی مدل زیر، موارد جزیره آتشفشانی، شیب قاره، گودال اقیانوسی و فلات قاره را در جای خالی بنویسید.



۱

۱۰- کدام عامل مهم‌ترین و بیشترین تأثیر را در تنوع زیست بوم‌ها دارد؟ (۰/۵ نمره)

الف) جنس خاک □ ب) میزان ارتفاع از زمین □ ج) آب و هوا ■ د) شکل ناهمواری‌ها □

۱۱- اگر حفاظت از زیستگاه‌های جنگل‌های استوایی را به شما واگذار کنند چه راهکارهایی را برای استفاده صحیح و خردمندانه از آن‌ها ارائه می‌دهید؟ دو مورد. (۱ نمره)

۱- کشاورزی و دامپروری با روش‌های علمی و جدید که کمترین آسیب را به محیط زیست می‌رسانند، به کشاورزان منطقه آموزش می‌دهم.

۲- با ایبار پارک‌های وحش از گونه‌های گیاهی و جانوری در معرض خطر مراقبت می‌کنم تا نسل آن‌ها منقرض نشود.

۳- بین استفاده اقتصادی از جنگل‌ها و فرصت‌بازسازی آن‌ها تعادل برقرار می‌آورم.

۳/۵

۱۲- از مهم‌ترین عواملی که باعث تخریب زیستگاه‌ها در جهان می‌شوند دو مورد بنویسید. (۱ نمره)

فعالیت‌های صنعتی و تولید انبوه کالاها در کارخانه‌ها، مصرف‌گرایی و تولید انبوه زباله، شکار و تبارت اعضای بدن حیوانات

۱۳- در هر یک از موارد زیر نام زیست بوم مربوطه را بنویسید. (۱ نمره)

الف) درختان بانوباب از گونه‌های گیاهی مشهور این زیست بوم هستند. ساوان

ب) این زیست بوم غنی‌ترین تنوع گیاهی و جانوری را دارد. جنگل‌های بارانی استوایی

ج) فقط گیاهانی چون خزه و گل‌سنگ در این زیست بوم رشد می‌کنند. توندرا

د) از گسترده‌ترین زیست بوم‌های جهان می‌باشد. تاپگا

۱۴- اگر درصد رشد جمعیت به کمتر از صفر برسد، به آن رشد منفی می‌گویند. (۰/۵ نمره)

۱۵- به نظر شما در چه کشورهایی امید به زندگی یا متوسط طول عمر کمتر است؟ (۱ نمره)

در کشورهایی که مردم دسترسی کافی به غذا یا آب آشامیدنی سالم ندارند- با کمبود پزشک و دارو و امکانات درمانی مواجهند- در کشورهایی که گرسنگی و سوء تغذیه وجود دارد.

۱۶- مهاجرت اجباری و اختیاری را با هم مقایسه کنید. (۱ نمره)

۳/۵

در مهاجرت اجباری افراد بدون میل خود و به دلایلی چون قحطی، خشکسالی و دیگر حوادث طبیعی یا جنگ‌ها مجبور به ترک محل زندگی خود می‌شوند اما در مهاجرت اختیاری افراد با میل و تصمیم خود برای دستیابی به زندگی بهتر به پای دیگری مهاجرت می‌کنند.

۱۷- جدول زیر را در رابطه با علل و عوامل نابرابری در جهان کامل کنید. (۱ نمره)

داخلی	وابستگی حکومت‌ها به بیگانگان، استبداد، فرهنگ‌ها و عادت‌های غلط، غفلت از استعدادهای داخلی
خارجی	اشغال نظامی کشورها، رقابت در امور داخلی آنها، جلوگیری از استقلال سیاسی و اقتصادی آنها، استعمار، پیاول و غارت کشورها

بارم	ادامه سؤالات		فصل
۳	<p>۱۸- یکی از منابع عمده حکومت صفوی مالیات بود که از بازرگانان می گرفتند. (۵/۰ نمره) <input type="checkbox"/> ص <input checked="" type="checkbox"/> غ</p> <p>۱۹- مهم ترین دشمنان خارجی صفویان در شرق و غرب کدام دولت ها بودند؟ (۵/۰ نمره)</p> <p>الف) عثمانی ها و پرتغالی ها <input type="checkbox"/> (ب) ازبک ها و عثمانی ها <input checked="" type="checkbox"/></p> <p>ج) افغان ها و ازبک ها <input type="checkbox"/> (د) پرتغالی ها و انگلیسی ها <input type="checkbox"/></p> <p>۲۰- اولین بار کدام پادشاه صفوی پایتخت صفویان را تغییر داد؟ چرا؟ (۱ نمره)</p> <p>شاه تهماسب زیرا تبریز همواره در معرض هجوم سپاه عثمانی بود.</p> <p>۲۱- از عوامل گسترش تجارت داخلی و خارجی در عصر صفوی دو مورد بیان کنید. (۱ نمره)</p> <p>یکپارچه بودن سرزمین ایران - وجود نظم و امنیت در سراسر کشور - ایجاد شبکه وسیعی از راه ها و کاروانسراها در سراسر کشور</p>		فصل پنجم
۳	<p>۲۲- کریم خان به جای عنوان شاه لقب وکیل الرعایا را برای خود برگزید. (۵/۰ نمره)</p> <p>۲۳- تعهدات ایران و انگلستان را در عهدنامه های دوره فتحعلی شاه قاجار بنویسید. (۱ نمره)</p> <p>الف) تعهد ایران: حکومت قاجار تعهد کرد که به هیچ کشوری اجازه نهد از خاک ایران به هندوستان لشکرکشی کند.</p> <p>ب) تعهد انگلستان: انگلیسی ها متعهد شدند در صورت عمله کشورهای دیگر به ایران به حکومت قاجار کمک های مالی و نظامی کنند.</p> <p>۲۴- میان کدام گزینه سمت راست با گزینه سمت چپ رابطه وجود دارد؟ (یک مورد در سمت چپ اضافی است). (۵/۱ نمره)</p> <p>۱- (ج) امیرکبیر (الف) تحریم استفاده از توتون و تنباکو</p> <p>۲- (الف) آیت الله میرزا حسن شیرازی (ب) فرستادن افرادی به انگلستان جهت علم آموزی</p> <p>۳- (ب) عباس میرزا (ج) تأسیس مدرسه دارالفنون</p> <p>(د) ایجاد مدارس جدید به سبک اروپایی</p>		فصل ششم
۶	جمع بارم صفحه ۳		
۲۰	جمع کل نمره	طراح سؤال: سیدسیاح	